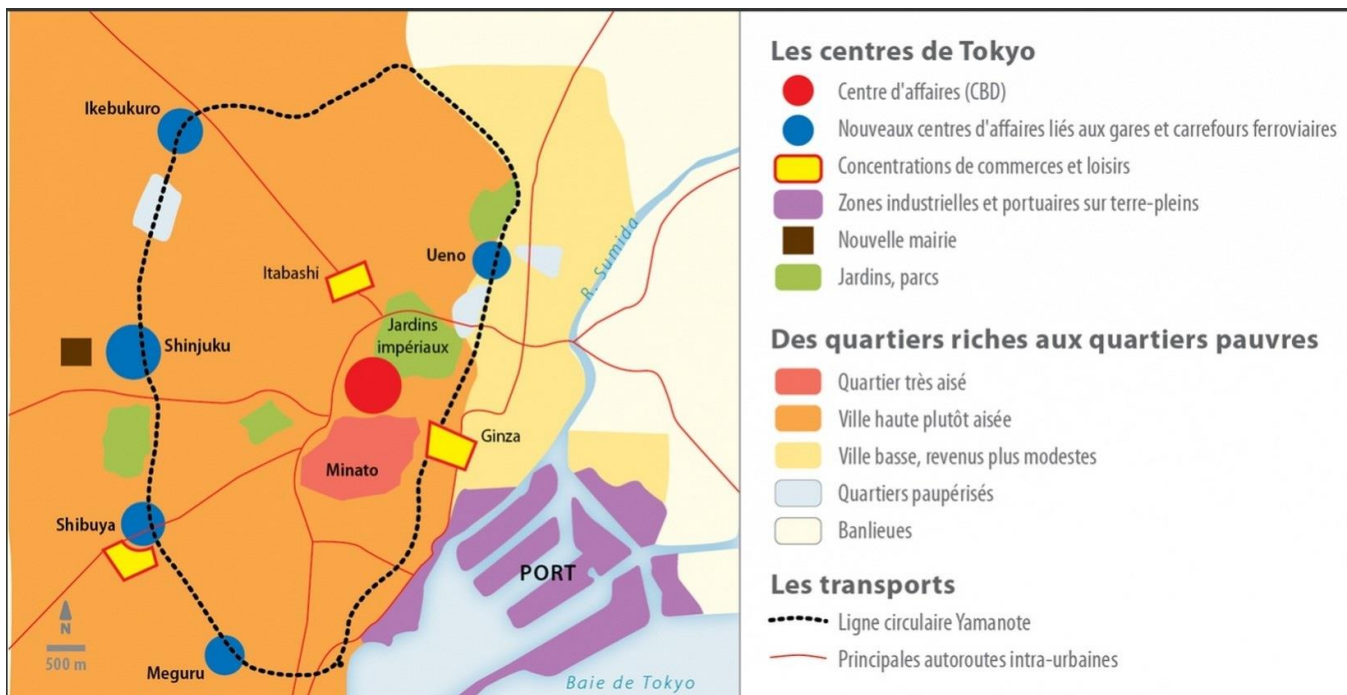


Comment Tokyo s'affirme-t-elle comme une métropole mondiale ?

I. Quelles fonctions permettent à Tokyo de jouer un rôle mondial ?

Document 1. Extrait du film « Lost in translation » (2003)

Document 2. Organisation de la ville de Tokyo




1. Décrivez le quartier de Shinjuku visible dans l'extrait de film et entourez-le sur le document 2.

2. Quelles activités sont pratiquées dans ce quartier ?

3. Comment appelle-t-on ce type de quartier ? Est-ce le seul à Tokyo ? Quels sont ses atouts d'après le document 2 ? En quoi est-il un symbole de la puissance de Tokyo ?

## Vue de Tokyo.



4. Identifiez les différents ensembles puis construisez une légende et un croquis.  
Légende

Quelques lieux emblématiques de Tokyo (cliquez sur le lien)

5. Associez les lieux aux fonctions



Université de Tokyo

Fonction culturelle



Bourse

Innovation



Aéroport de Haneda

Fonction financière



Château d'Edo

Fonction politique

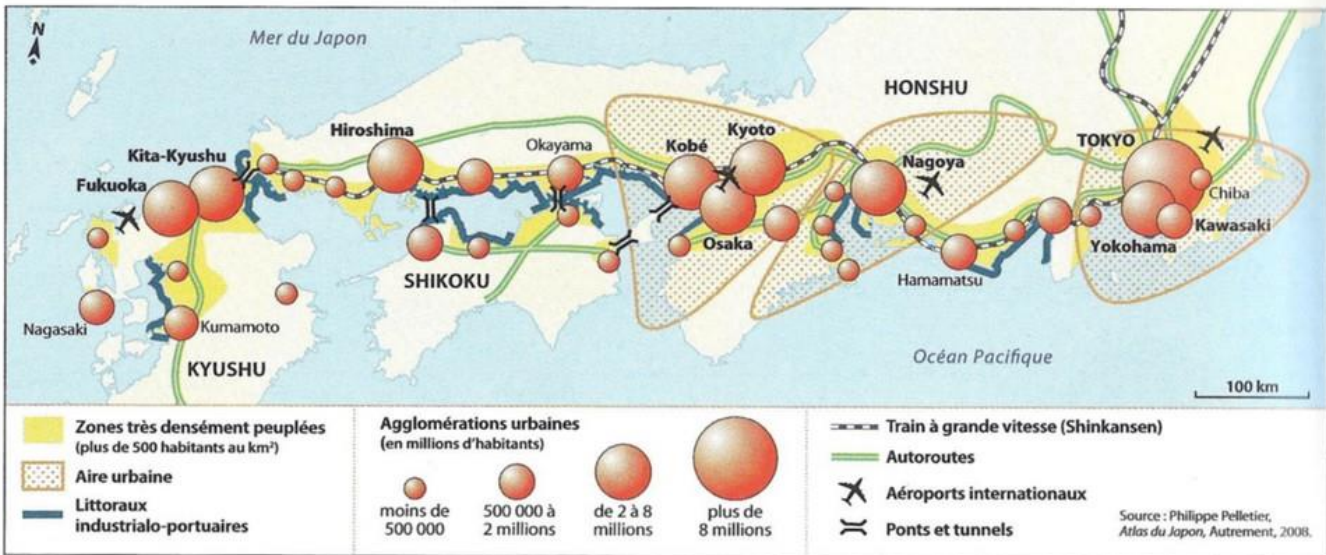


Boutique de mangas  
à Akihabara

6. Identifiez dans les documents les aménagements de transports qui permettent à Tokyo d'être en relation avec le monde entier.

Bilan.

En vous appuyant sur l'exemple de Tokyo, essayez de donner une définition de métropole mondiale et montrez qu'il s'agit d'un lieu de commandement.



## II. Comment se manifeste l'ancrage de Tokyo dans la mégalopole ?

1. Expliquez ce qu'est la mégalopole. Quels sont les atouts de cet espace ?

2. Montrez à l'aide du document 3 p 27, de la carte et du clip « City girl » que Tokyo domine la mégalopole.

Domination concernant la population	Domination économique	Domination des réseaux de transport